

CÁTEDRA DE ANATOMÍA HUMANA

CARRERA DE LICENCIATURA EN OBSTETRICIA
FACULTAD DE CIENCIAS MÉDICAS
UNIVERSIDAD DE BUENOS AIRES

GUÍA PRÁCTICA Nº 5
“MIEMBRO INFERIOR”

Docentes de anatomía en obstetricia

Imagen I

- 1- Describa el hueso.
- 2- Identifique cada una de sus caras, bordes y ángulos.
- 3- Identifique cada uno de los accidentes de sus caras y bordes.



Imagen II

- 1- Describa la imagen.
- 2- Nombre los músculos que se observan.
- 3- Describa las inserciones de los músculos: semitendinoso, semimembranoso, bíceps crural, piramidal de la pelvis.



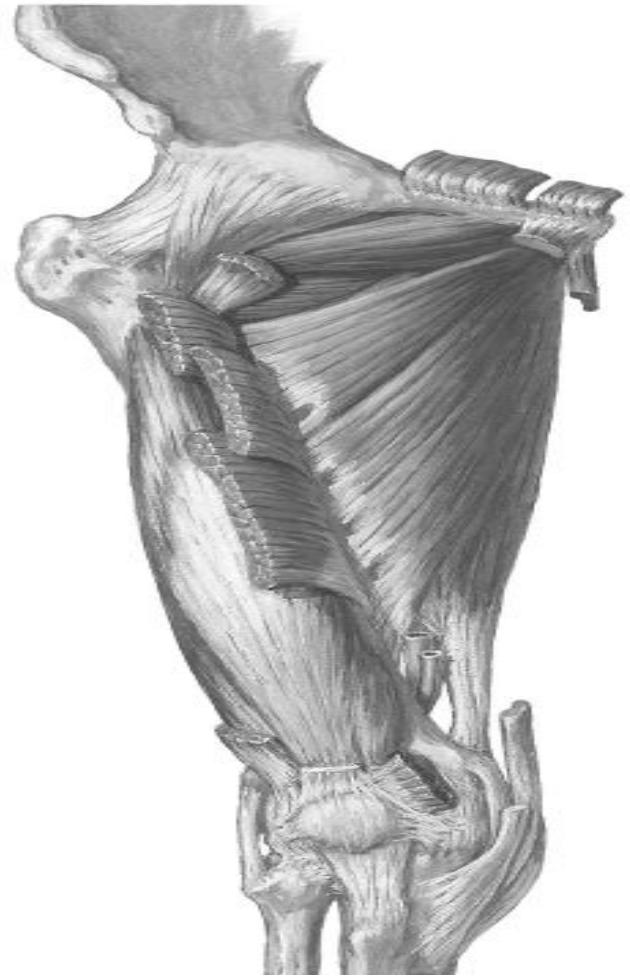


Imagen III

- 1- Describa la imagen
- 2- Nombre los músculos que se observan
- 3- Describa brevemente inserción proximal y distal de cada uno de los aductores.

Imagen IV

- 1- Describa la imagen
- 2- Qué es A? Qué contiene?
- 3- Describa B. Nombre sus elementos: C, D, E.
- 4- Reconozca F. Indique relaciones.
- 5- Reconozca: **G**.

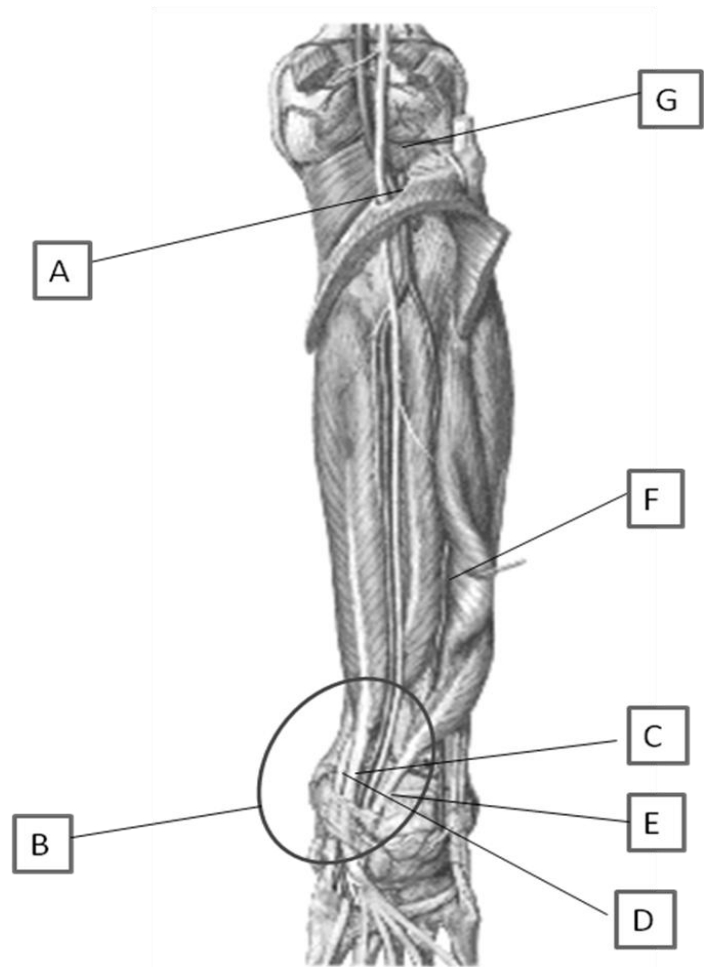


Imagen V

- 1- Describa la imagen
- 2- Reconozca: A, B
- 3- Reconozca: C, D, E. Indique inserción distal de este último.
- 4- Reconozca F y su inserción distal
- 5- Reconozca G, ¿Qué lo caracteriza?; H.
- 6- Identifique el músculo tibial posterior

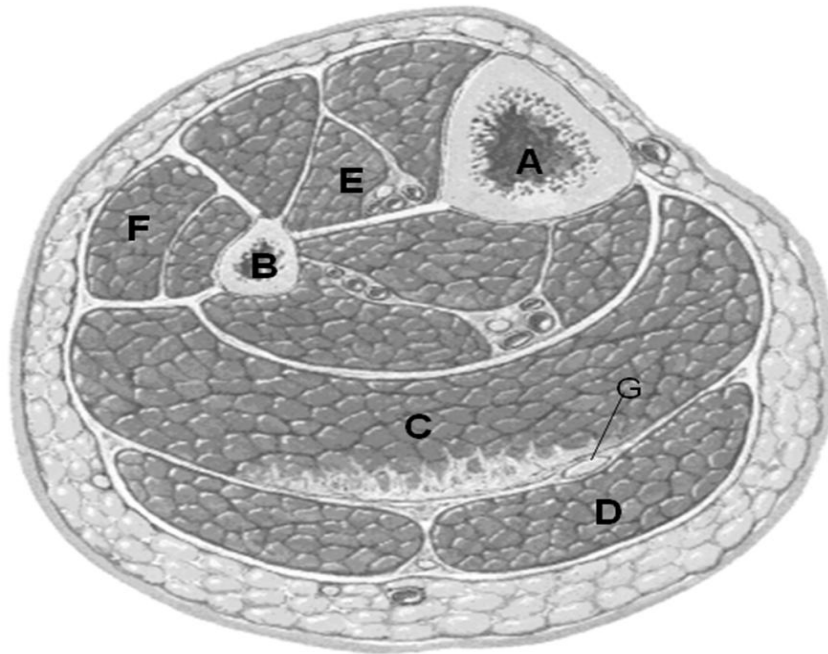


Imagen VI

- 1- Describa la imagen.
- 2- Nombre los grupos de músculos que se encuentran en estas regiones.
- 3- Nombre a estos músculos.

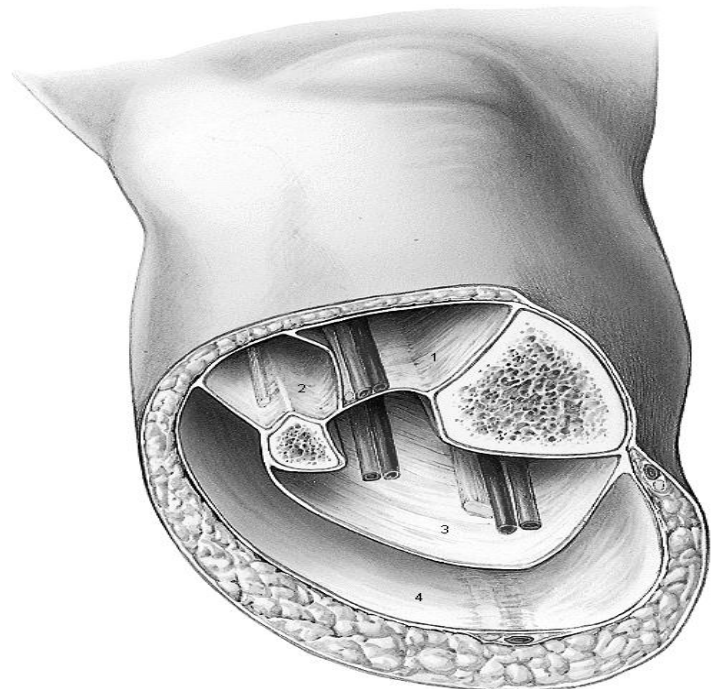


Imagen VII

- 1- Describa los músculos que se observan en la imagen de la izquierda.
- 2- Describa las arterias representadas en las dos figuras.

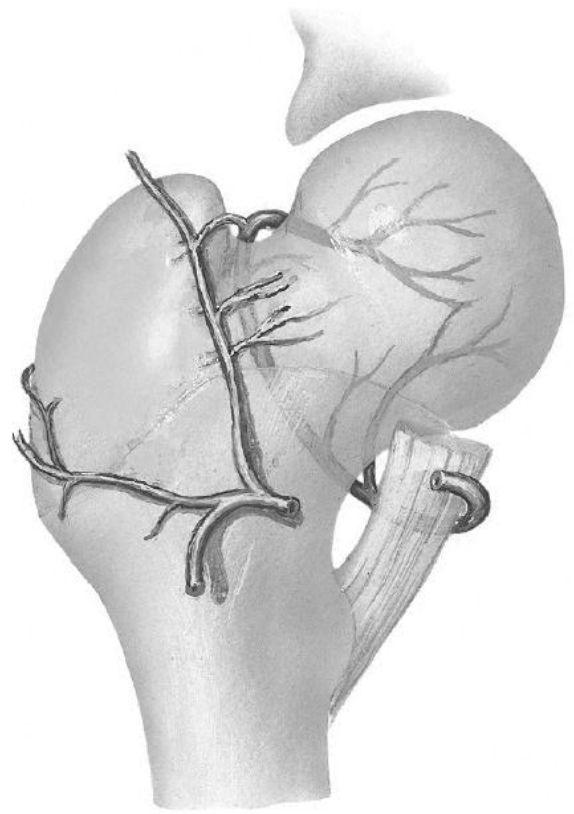
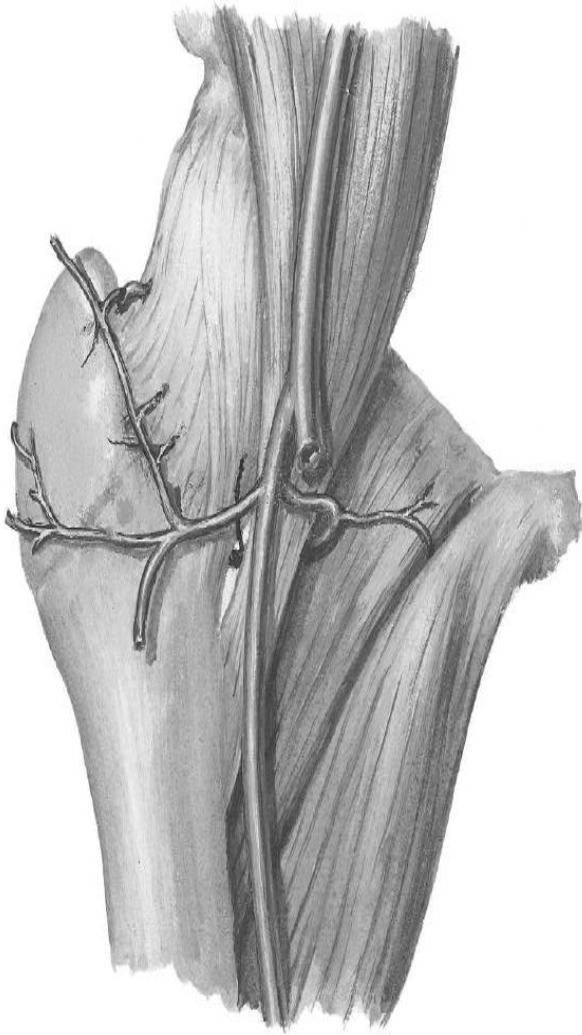


Imagen VIII

- 1- Comente brevemente la articulación de la rodilla.
- 2- Describa los ligamentos que se observan en las imágenes.

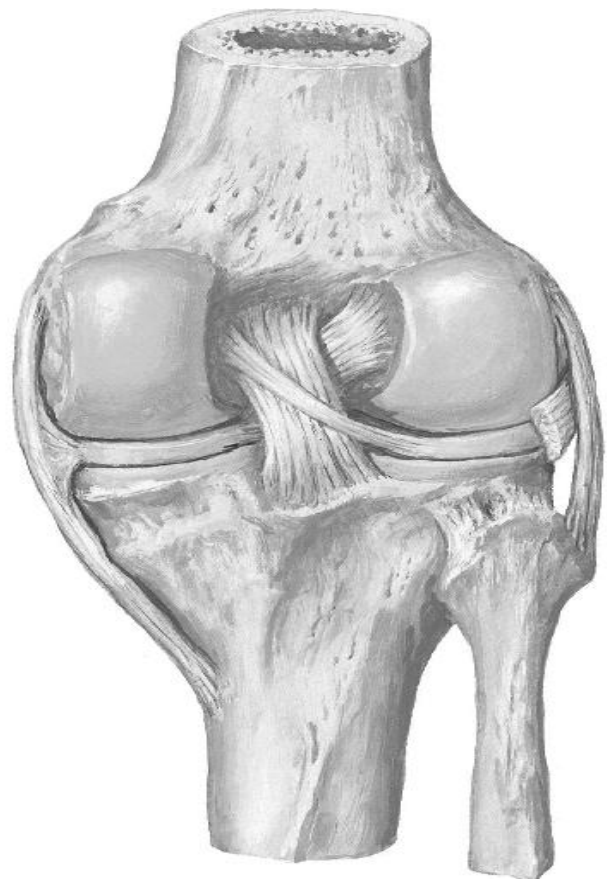
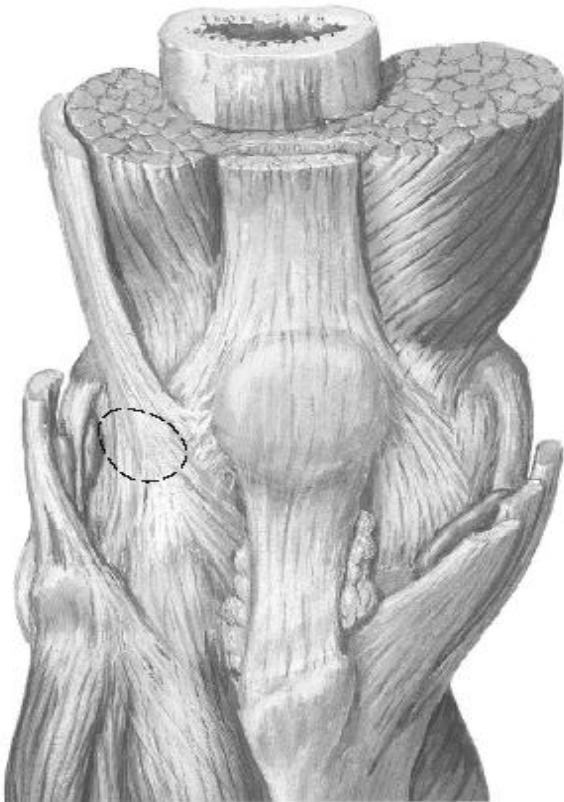


Imagen IX

- 1- Describa la imagen
- 2- Nombre los músculos que se observan en la imagen.
- 3- Describa el sector o los sectores de la región topográfica Garganta del pie, que se observa/n en la figura.
- 4- Nombre las relaciones del Nervio Ciático Poplíteo Externo.
- 5- Qué caracteriza al músculo peroneo anterior?

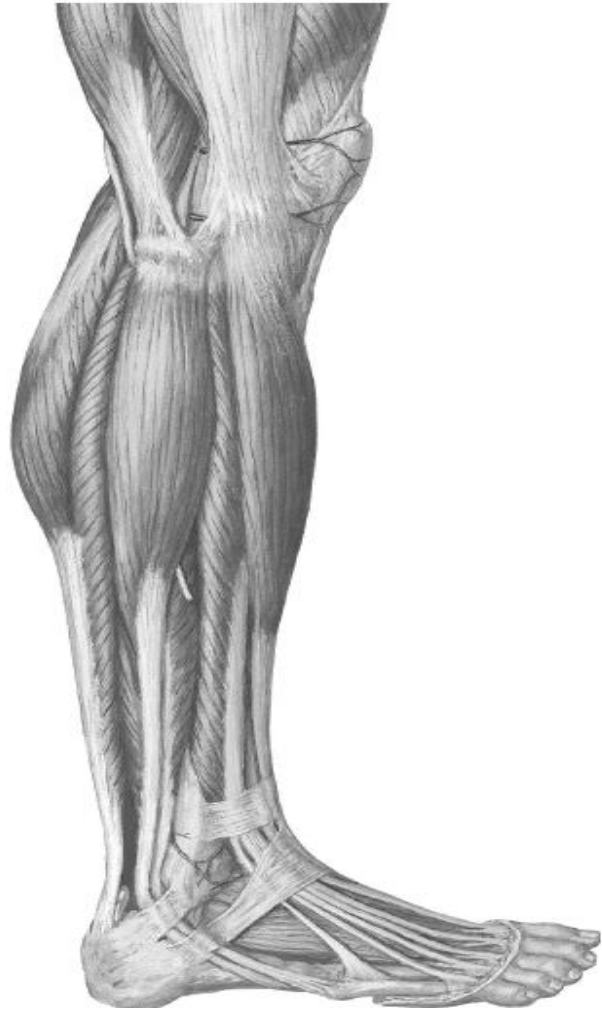


Imagen X

- 1- Describa la imagen.
- 2- Nombre cada uno de los elementos representados por letras.
- 3- Describa brevemente al elemento A.
- 4- Describa los grupos musculares de esta región.

